

الرقم السري

مملكة البحرين

وزارة التربية والتعليم

إدارة الامتحانات / قسم الامتحانات المركزية

امتحان منتصف الفصل الثاني للتعليم الثانوي

للعام الدراسي 2017/2018م

((المسار : توحيد المسارات))

(النموذج الأول)

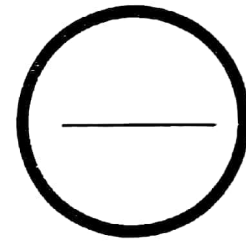
الإسلام

الزمن : ساعة واحدة

المقرر : محا 111 مبادئ المحاسبة

الدرجة المعطاة بالأرقام والحروف:

السؤال	الدرجة بالأرقام	الدرجة بالحروف	إمضاء المصححين
الأول			
الثاني			
الثالث			
الرابع			
الخامس			
السادس			
السابع			
الثامن			
التاسع			
العاشر			
المجموع			



جمعه : _____

راجع الجمع : _____

توقيع المراجع : _____



طاقة بيانات

مملكة البحرين

وزارة التربية والتعليم

إدارة الامتحانات / قسم الامتحانات المركزية

الرقم السري

امتحان منتصف الفصل الثاني للتعليم الثانوي للعام الدراسي 2017/2018م

(النموذج الأول)

اسم الطالب : _____ رقمه الأكاديمي : _____

المقرر : محا 111 مبادئ المحاسبة (توحيد المسارات) رقم الجلوس : _____

اسم المدرسة : _____ التاريخ : / / توقيع الملاحظ : _____

10

QUESTION ONE:

A) Classify each of the following accounts in to Assets (A), Liabilities (L), Owner's Equity (OE), Revenues (R), and Expenses (E).

Account	Classification	Account	Classification
Equipment		Drawings	
Salaries		Account receivable	
Fees earned		Loan	

3

B) Determine the normal balance (Debit/Credit) of the following accounts:

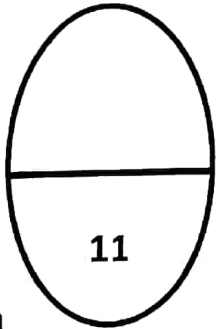
Account	Normal Balance	Account	Normal Balance
Rent expense		Premises	
Truck		Account payable	
Service revenue		Capital	

3

C) Compute the missing figure using the Accounting Equation:

Assets		=	Liabilities + Owner's Equity	
Cash	Land	=	Account payable	Capital
40,000	=	30,000	65,000
27,300	53,700	=	76,400
.....	49,800	=	18,500	45,300
38,400	52,600	=	22,800

4



QUESTION TWO:

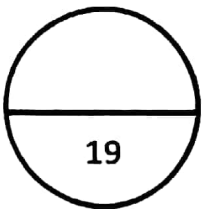
Show the effects of the following transactions on the **Basic Accounting Equation** using the table below:

- 1) Invested BD60,000 cash in the business.
- 2) Bought equipment on account BD9,000 from Sara Co.
- 3) Provided service to customer Naser BD2,600 , received BD1,000 cash and the balance on credit.
- 4) Paid BD7,000 to Sara Co.
- 5) Received the amount due from customer Naser.
- 6) Paid BD300 for utilities expense.
- 7) Withdraw cash BD800 for personal use.

No.	Assets			=	Liabilities + Owner's Equity		Remarks
	Cash	Accounts Receivable	Equipment	=	Accounts Payable	Capital	
1				=			
2				=			
3				=			
4				=			
5				=			
6				=			
7				=			
Bal.							
Total							

QUESTION THREE:

Complete the following journal entries of Dana Company for the month of April, 2017. (Use the explanation of each transaction).



GENERAL JOURNAL

Page No (12)

Date	Explanation	PR	Debit	Credit
April 1	Invested cash BD33,000 and equipment BD27,000 in the business.			
April 5	Sold goods BD26,400 on credit to customer Samar.			
April 10	Returned goods BD 6,400 credit from customer Samar.			
April 14	Received BD20,000 from customer Samar.			
April 18	Paid rent expense BD9,000 cash.			
April 22	Purchased truck BD8,500 from Salman Est. paid BD3,300 and the balance on credit.			
April 27	Sold goods BD2,000 to customer Nada, who are using Visa Card. The charge of credit card is 2%.			
April 29	Paid BD1,700 to Salman Est..			