

مملكة البحرين

وزارة التربية والتعليم

إدارة الامتحانات / قسم الامتحانات المركزية

الإجابة النموذجية

النموذج الأول

امتحان منتصف الفصل الدراسي الأول للتعليم الثانوي للعام الدراسي ٢٠١٩/٢٠٢٠م

المسار: توحيد المسارات

اسم المقرر: الثقافة التجارية

الزمن: ساعة واحدة

رمز المقرر: ثقف ١٠١

ملاحظة: الالتزام بالإجابة النموذجية مع مراعاة الإجابات الأخرى المنطقية

(١٠ درجات)

السؤال الأول:

أ- ضع دوائر حول رمز الإجابة الصحيحة: (٤ = ١ × ٤ درجات)

١- هو وسيط بين المنتج وتاجر التجزئة، يقوم بشراء كميات كبيرة من المنتج ويعيد بيعها بكميات إلى تاجر التجزئة:

- المستهلك.
- تاجر الجملة.
- البائع الجوال.
- المستورد.

٢- أحد أنواع البنوك والذي أطلق عليه أسم بنك الحكومة كونه يحتفظ بحسابات الحكومة:

- البنك التجاري.
- البنك العقاري.
- البنك المركزي.
- البنك الصناعي.

٣- يتم نقل الأدوية والدم بوسائل مرتفعة الثمن كالطائرة، ويرجع ذلك إلى:

- قيمة السلعة.
- الضرورة الملحة.
- حجم الشحنة.
- تكلفة النقل.

٤- أحد عناصر العملية الإنتاجية، يهتم بالتنسيق بين عناصر الإنتاج الأخرى وتحمل مخاطر المشروع:

- الأرض.
- رأس المال.
- العمل.
- التنظيم.

ب- قارن بين الشركات في القطاع الخاص والقطاع العام في كل مما يأتي: (٦ = ١ × ٦ درجات)

وجه المقارنة	شركات القطاع الخاص	شركات القطاع العام
من يملكها؟	أفراد بمفردهم أو في مجموعات	تملكها الحكومة
الهدف من تكوينها	تحقيق الربح	توفير السلع والخدمات أو توفير الرفاهية
أذكر مثال عليها	شركة كانو - شركة المؤيد	شركة ممتلكات - شركة الخليج للبترول وكيمويات

أ- اكتب المصطلح أو التعريف المناسب إلى الآتي: (٦ × ١ = ٦ درجات)

الرقم	المصطلح	التعريف
١	<u>أخطار الأشخاص</u>	هي الأخطار التي تصيب الفرد نفسه بصفة مباشرة، وهذه الأخطار لو حدثت تسبب خسارة في الدخل كالمرض والوفاة والبطالة والشيخوخة.
٢	<u>الرؤية</u>	الحلم الذي ترغب المؤسسة في أن يصبح حقيقة، وهذا يتطلب التخطيط المستمر.
٣	<u>الخصخصة</u>	<u>تقليص حجم القطاع العام من خلال نقل ملكية المشروعات العامة إلى القطاع الخاص.</u>
٤	<u>بنوك الأفسور</u>	<u>هي تلك الوحدات المصرفية الخارجية التي تقوم بالتعامل مصرفيًا مع غير المقيمين في البلد.</u>
٥	<u>التجارة الداخلية</u>	هي عملية بيع وشراء السلع أو الخدمات داخل حدود الدولة.
٦	<u>الحاجة</u>	هي الأشياء التي لا نستطيع العيش من دونها مثل الماء والطعام.

ب- أكمل الجدول الآتي لتوضيح فكرة القيمة المضافة: (المبالغ بالدينار) (٦ × ٠,٥ = ٣ درجات)

مراحل الإنتاج	المدخلات	المخرجات	القيمة المضافة
زراعة القطن	<u>صفر</u>	<u>٥٠</u>	٥٠
تحويل القطن إلى قماش	<u>٥٠</u>	٨٥	<u>٣٥</u>
تحويل القماش إلى ملابس	٨٥	<u>١٦٥</u>	٨٠
المجموع			<u>١٦٥</u>

(١٢ درجة)

أ- أقرأ الفقرة الآتية بدقة، ثم أجب عن الأسئلة التي تليها:

بعد التخرج من المرحلة الجامعية في تخصص المحاسبة، قرر الأصدقاء الثلاثة علي وعيسى وسلطان البدء في مشروع خاص بهم، متخصص في الاستشارات المحاسبية، سميت الشركة (شركة الأصدقاء للاستشارات المحاسبية)، أتفق الأصدقاء على جميع الأمور المهمة الخاصة بتأسيس الشركة، ولكن سلطان طلب من أصدقائه أن يكون خارج الإدارة، ولا يكون مسؤولاً عن التزامات الشركة إلا بمقدار حصته من رأس المال، على عكس علي وعيسى حيث كانوا مسؤولين عن التزامات الشركة في جميع أموالهم، أي أن الشركة تتكون من متضامنون وموصون.





• هل تتدرج شركة الأصدقاء للاستشارات المحاسبية ضمن شركات الأشخاص أم الأموال؟ ولماذا؟ //
شركات الأشخاص، لأنها اعتمدت في تأسيسها على الثقة المتبادلة بين الأصدقاء. (أي إجابة أخرى منطقية)

• أكتب أسم نوع (شركة الأصدقاء للاستشارات المحاسبية) مستعيناً بما درسته عن أنواع الشركات. //
شركة التوصية البسيطة

ب- ما معنى الالتزام غير المحدود؟

خسارة كل الثروة والممتلكات الخاصة مقابل دفع الديون المستحقة عليه. //

ج- حدد نوع تجارة التجزئة من خلال الصور الموجودة في الجدول الآتي وذلك بوضع علامة (✓) في المكان المناسب، ثم أكتب اسم نوع التجارة. (٦ درجات - علامة الصح نص ونوع التجارة درجة)

الصورة	تجارة التجزئة		أسم نوع التجارة
	كبيرة	صغيرة	
		✓ (X)	البائع الحوال (X)
	✓ (1)		متاجر الأقسام (1)
	✓ (1)		متاجر السلسلة (1)
		✓ (1)	آلات البيع (1)



* إلقاء الصورة الأولى لعدم وضوحها

* ٦ × ١ = ٦ درجات على الشرائح صور المتبقية

(٩ درجات)

السؤال الرابع:

أ- صنف الأعمال الآتية على مستويات الإنتاج المختلفة، وذلك بوضع علامة (✓) في المكان المناسب.
(٦ × ٠,٥ = ٣ درجات)

المستوى الثالث	المستوى الثاني	المستوى الأول	الأنشطة
✓			الإعلان
		✓	استخراج النفط
	✓		تشديد الجسور والطرق
		✓	صيد الأسماك
✓			تأمين السيارات
	✓		أعمال البناء

ب- اقرأ الحالة الآتية بدقة، ثم أجب عن الأسئلة التي تليها:

قامت السيدة هدى أحمد بالتأمين على منزلها الكائن في مدينة سلمان ضد السرقة بقيمة ٣٠٠٠٠ دينار لدى شركة الخليج للتأمين، على أن تدفع مبلغًا سنويًا للشركة وقدره ٢٣٠ دينار.
المطلوب: (٦ × ١ = ٦ درجات)

شركة الخليج للتأمين.	المؤمن
السيدة هدى أحمد	المؤمن له
التأمين ضد السرقة	نوع التأمين
السيدة هدى أحمد	المستفيد
٣٠٠٠٠ دينار	مبلغ التعويض
٢٣٠ دينار	قسط التأمين

انتهت الإجابة