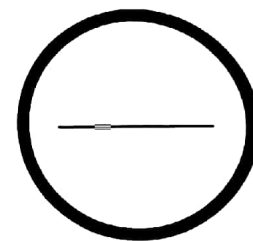


الزمن : ساعة واحدة

المقرر : قصد 211 الاقتصاد

الدرجة المعطاة بالأرقام والحروف:


السؤال	الدرجة بالأرقام	الدرجة بالحروف	إمضاء المصححين
الأول			
الثاني			
الثالث			
الرابع			
الخامس			
السادس			
السابع			
الثامن			
التاسع			
العاشر			
المجموع			



جمعه : -----

راجع الجمع : -----

توقيع المراجع : -----



بطاقة بيانات

مملكة البحرين

وزارة التربية والتعليم

إدارة الامتحانات / قسم الامتحانات المركزية

الرقم السري

امتحان منتصف الفصل الأول للتعليم الثانوي للعام الدراسي 2019/2018م

(النموذج الأول)

اسم الطالب : _____ رقمه الأكاديمي : _____

المقرر : قصد 211 الاقتصاد (توحيد المسارات) رقم الجلوس : _____

اسم المدرسة : _____ التاريخ : / / توقيع الملاحظ : _____

مملكة البحرين

وزارة التربية والتعليم

إدارة الامتحانات / قسم الامتحانات المركزية

امتحان منتصف الفصل الدراسي الأول للتعليم الثانوي للعام الدراسي ٢٠١٨/٢٠١٩م

اسم المقرر : مبادئ الاقتصاد

المسار: توحيد المسارات

رمز المقرر: قصاد ٢١١

الزمن : ساعة واحدة

(١٥ درجة)

السؤال الأول:

أ- اقرأ العبارات الآتية بتمعن، ثم صنفها من حيث الصح أو الخطأ.

الرقم	العبرة	التصنيف (صح / خطأ)
١	نادت المدرسة الطبيعية إلى سعي الدولة لتشكيل قوى عاملة مدربة وقادرة على الإنتاج، وتحقيق التقارب بين مصلحة الفرد والمجتمع.	
٢	يتم احتساب الطالب الذي هو في سن العمل وقادر على العمل ضمن قوة العمل.	
٣	يهتم التوزيع الوظيفي للدخل بتحديد نسبة السكان الذين يحصلون على دخلهم من ملكيتهم لعناصر الإنتاج.	
٤	يسمى مجموع الأجور والفوائد والريع التي يحصل عليها أصحاب عناصر الإنتاج مقابل استعمالها في الإنتاج بالأجور التعاقدية.	
٥	التضخم التدريجي يحدث على مدى فترة زمنية قصيرة جداً.	

ب- أكتب المصطلح أو التعريف المناسب الى الآتي:

الرقم	المصطلح	التعريف
١		قيمة ما أنتج من سلع وخدمات خلال فترة زمنية غالباً ما تكون سنة.
٢	البطالة الموسمية	
٣		مقدار ما يمكن زيادته في حجم الأراضي داخل الدولة من خلال استصلاحها.
٤	المشكلة الاقتصادية	
٥		كل جهد عضلي أو ذهني يبذل في العملية الإنتاجية.

(٦ درجات)

السؤال الثاني:

علل الآتي:

١. تعتبر النقطة التي تقع تحت خط إمكانيات الإنتاج ممكنة ولكن بدون كفاءة مقارنة بالنقطة التي تقع على المنحنى نفسه.

٢. ظهور البطالة الدورية.

٣. يعتبر زيادة الطلب الكلي أحد الأسباب لحدوث تضخم في المجتمع.

(٧ درجات)

السؤال الثالث:

يعمل محمد لدى شركة ألبا ويحصل على أجر شهري مقداره ٨٥٠ دينارًا ، يقوم محمد بتوزيع أجره على مصروفاته المختلفة منها تخصيص مبلغًا لوقود السيارة علمًا بأن سيارته تستهلك ٥٠٠ لتر شهريًا من الوقود الممتاز فقط.

من خلال الفقرة السابقة أجب عن الآتي:

ملاحظة: المطلوب إجراء العمليات الحسابية بالكامل وليس الاكتفاء بالرقم النهائي إذا كان السؤال يستدعي ذلك.

• كم يبلغ الأجر النقدي لمحمد.

• كم سيصرف محمد شهريًا على الوقود إذا كان سعر اللتر الواحد من الوقود الممتاز ١٠٠ فلس.

• كم سيصرف محمد شهريًا على الوقود إذا ارتفع سعر اللتر الواحد من الوقود الممتاز ١٨٠ فلس.

• عند انخفاض أو ارتفاع الأسعار ماذا يحدث للدخل الحقيقي؟

- عند انخفاض الأسعار:

- عند ارتفاع الأسعار:

(١٢ درجة)

أ- حدد نوع البطالة أو نوع منافع الإنتاج في الأمثلة الآتية:

الرقم	الأمثلة	نوع البطالة / منافع الإنتاج
١	بسبب تطور التكنولوجيا السريع مما أدى لفقدان راشد لعمله نظرًا لعدم امتلاكه أي فكرة عن هذه التطورات في مجال عمله.	
٢	جيمس تاجر ذرة أمريكي يقوم بتصديرها الى مملكة البحرين من خلال شركة الأغذية المحدودة.	
٣	يذهب سعد الى عمله كل يوم ويحصل على أجر نهاية الشهر إلا أنه لا ينتج شيئًا نظرًا لوجود عدد كبير من العاملين في الدائرة التي يعمل فيها.	
٤	استعان أجدادنا بالتجفيف لتوفير بعض السلع في غير موسمها.	

ب- احسب التضحية في الحالات الآتية:

- قررت الدولة (أ) أن ترفع إنتاجها من سلعة الطماطم من ٢٥٠ طن الى ٤٥٠ طن، ولأن الموارد التي تملكها هذه الدولة محدودة تراجع إنتاج سلعة الألمنيوم من ٨٠٠ طن الى ٢٥٠ طن.

- قررت الدولة (ب) أن ترفع إنتاجها من سلعة الحديد من ١٥٠٠ طن إلى ٤٠٠٠ طن، وفي المقابل لوحظ زيادة في إنتاج الأرز من ١٠٠ طن إلى ١٥٠ طن.

انتهت الأسئلة

امتحان منتصف الفصل الأول للتعليم الثانوي

للعام الدراسي 2019/2018م

((المسار : توحيد المسارات))

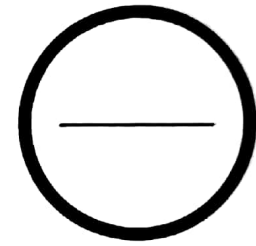
(النموذج الثاني)

الزمن : ساعة واحدة

المقرر : قصد 211 الاقتصاد

السؤال	الدرجة بالأرقام	الدرجة بالحروف	إمضاء المصححين
الأول			
الثاني			
الثالث			
الرابع			
الخامس			
السادس			
السابع			
الثامن			
التاسع			
العاشر			
المجموع			

الدرجة المعطاة بالأرقام والحروف:

-----

جمعه : -----

راجع الجمع : -----

توقيع المراجع : -----



بطاقة بيانات

مملكة البحرين

وزارة التربية والتعليم

إدارة الامتحانات / قسم الامتحانات المركزية

الرقم السري

امتحان منتصف الفصل الأول للتعليم الثانوي للعام الدراسي 2019/2018م

(النموذج الثاني)

اسم الطالب : _____ رقمه الأكاديمي : _____

المقرر : قصد 211 الاقتصاد (توحيد المسارات) رقم الجلوس : _____

اسم المدرسة : _____ التاريخ : / / توقيع الملاحظ : _____

مملكة البحرين

وزارة التربية والتعليم

إدارة الامتحانات / قسم الامتحانات المركزية

امتحان منتصف الفصل الدراسي الأول للتعليم الثانوي للعام الدراسي ٢٠١٨/٢٠١٩م

المسار: توحيد المسارات

اسم المقرر: مبادئ الاقتصاد

الزمن: ساعة واحدة

رمز المقرر: قصد ٢١١

النموذج الثاني

(١٥ درجة)

السؤال الأول:

أ- أقرأ العبارات الآتية بتمعن، ثم صنفها من حيث الصح أو الخطأ.

الرقم	العبارة	التصنيف (صح / خطأ)
١	نادت المدرسة التجارية بأهمية قطاع الزراعة والصناعة في الاقتصاد.	
٢	السلع الاقتصادية هي التي نحصل عليها مقابل ثمن.	
٣	يهتم التوزيع الشخصي للدخل بتحديد نسبة السكان الذين يحصلون على دخلهم من ملكيتهم لعناصر الإنتاج.	
٤	يسمى ما يحصل عليه رأس المال نظير اشتراكه في العملية الإنتاجية ربحاً.	
٥	كل من هو في سن العمل ولا يعمل وهو قادر على العمل وراغب فيه ويبحث عنه يعتبر في بطالة.	

ب- أكتب المصطلح أو التعريف المناسب الى الآتي:

الرقم	المصطلح	التعريف
١		مقدار التضحية من سلعة ما للحصول على وحدات إضافية من سلعة أخرى.
٢	البطالة المقنعة	
٣		ينشأ نتيجة اختلاف خصوبة التربة في الأراضي الزراعية.
٤	علم الاقتصاد	
٥		يحصل عليه عنصر التنظيم نظير تحمله عنصر المخاطرة.

(٦ درجات)

السؤال الثاني:

علل الآتي:

١. تعتبر النقطة التي تقع فوق منحنى إمكانيات الإنتاج غير ممكنة حاليًا إلا أنه يمكن تحقيقها في المستقبل.

٢. ظهور البطالة الدورية.

٣. عدم وجود ثمن للسلع الحرة.

السؤال الثالث:

(٧ درجات)

يعمل مبارك لدى شركة بابكو ويحصل على أجر شهري مقداره ٩٠٠ دينارًا ، يقوم مبارك بتوزيع أجره على مصروفاته المختلفة منها تخصيص مبلغًا لشراء الأرز، علمًا بأن أسرته تستهلك ٨٠ كيلو شهريًا من الأرز البسمتي الممتاز.

من خلال الفقرة السابقة أجب عن الآتي:

ملاحظة: المطلوب إجراء العمليات الحسابية بالكامل وليس الاكتفاء بالرقم النهائي إذا كان السؤال يستدعي ذلك.

• كم يبلغ الأجر النقدي لمبارك؟

• كم سيصرف مبارك شهريًا على الأرز إذا كان سعر الكيلو الواحد من الأرز الممتاز ٢٠٠ فلس.

• كم سيصرف مبارك شهريًا على الأرز إذا ارتفع سعر الكيلو الواحد من الأرز إلى ٣٥٠ فلس.

• عند انخفاض أو ارتفاع الأسعار ماذا يحدث للدخل الحقيقي؟

- عند انخفاض الأسعار:

- عند ارتفاع الأسعار:

(١٢ درجة)

أ- حدد نوع البطالة أو نوع منافع الإنتاج إلى الأمثلة الآتية:

الرقم	الأمثلة	نوع البطالة / منافع الإنتاج
١	اتفق محمود مع عماله تأخير زراعة القمح لمدة شهرين بسبب تقلب الأحوال الجوية في هذه الفترة.	
٢	قامت مجوهرات المروج بشراء سبيكة ذهب وتحويلها الى مصوغات ذهبية وعرضتها في المحل.	
٣	يقوم عبدالله بتجفيف التمور للاستفادة منها في موسم آخر.	
٤	ترك جاسم عمله نظراً لبعده عن منطقة سكنة وذلك للحصول على عمل آخر أكثر قرباً.	

ب- احسب التضحية في الحالات الآتية:

- قررت الدولة (أ) أن ترفع إنتاجها من سلعة البُن من ١٠٠ طن الى ١٢٠ طن، ولأن الموارد التي تملكها هذه الدولة محدودة تراجع إنتاج سلعة الكاكو من ٥٠ طن الى ٢٠ طن.

- قررت الدولة (ب) أن ترفع إنتاجها من سلعة القمح من ٢٠٠ طن إلى ١٠٠٠ طن، وفي المقابل لوحظ ثبات في إنتاج القماش عند ١٠٠ ألف متر.

انتهت الأسئلة