

مملكة البحرين

وزارة التربية والتعليم

إدارة الامتحانات / قسم الامتحانات

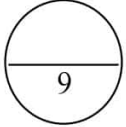
امتحان نهاية الفصل الدراسي الأول للتعليم الثانوي للعام الدراسي 2016/2015م

المسار: توحيد المسارات

اسم المقرر: مبادئ الاقتصاد

الزمن: ساعة ونصف

رمز المقرر: قصد 211



السؤال الأول:

أ) ضع دائرة حول رقم الإجابة الصحيحة فقط:

1- اقتصاد يعتمد على أساسيات علم الاقتصاد وأصوله في مواجهة القضايا الاقتصادية التي تواجه المجتمع هو:

أ- الاقتصاد الكلي ج- الاقتصاد التطبيقي

ب- الاقتصاد الجزئي د - الاقتصاد الاجتماعي

2- من أسباب المشكلة الاقتصادية في العالم:

أ- ندرة الموارد ج- الاختيار والمفاضلة

ب- تعدد الحاجات د - كل ما ذكر صحيح

3- عندما يُستخرج من برميل النفط الخام (بنزين 50%، ديزيل 20%، زيوت 10%، غاز 20%) تعتبر منفعة:

أ- شكلية ج- زمانية

ب- مكانية د - تحويلية

4- نظام اقتصادي تمتلك فيه الدولة غالبية عوامل الإنتاج والثروة في المجتمع وتدار وفقا لخطة قومية شاملة:

أ- الاقتصاد الرأسمالي ج- الاقتصاد المختلط

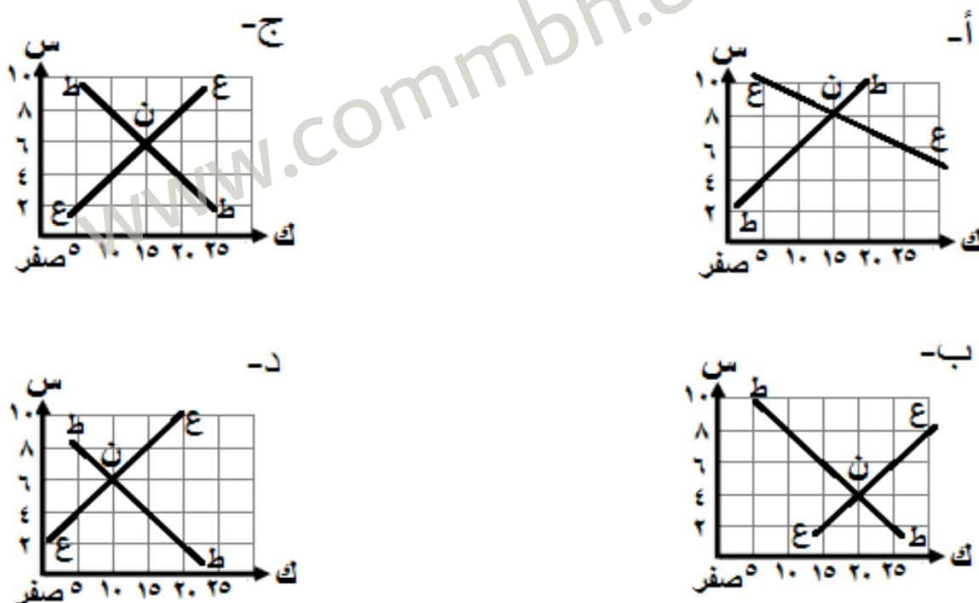
ب- الاقتصاد الاشتراكي د- الاقتصاد الإسلامي

5- درجة "مرونة الطلب" عند ثبات الكمية المطلوبة لسلعة ما مع تغير السعر صعودا وهبوطا كلوحة الموناليزا تساوي:

أ- صفر ج- أكبر من واحد

ب- واحد د - أقل من واحد

6- شكل المنحنى الذي يمثل نقطة توازن السوق عند النقطة (ن) هو:



ب) صنف إجراءات معالجات التضخم في الجدول أدناه مستعينا بالتصنيفات التالية:  
(سياسة مالية - أدوات اقتصادية كمية - أدوات اقتصادية نوعية - تحكم ومراقبة مباشرة)

م	المعالجة	التصنيف
1	توعية القيادات المصرفية وإقناعها بالسياسة العامة للدولة	
2	فرض الضرائب على السلع الكمالية	
3	قيام البنوك المركزية ببيع الأوراق المالية في السوق	
4	تسهيل دخول السلع المستوردة وخاصة الضرورية منها	
5	زيادة معدلات الفائدة على الدين العام	
6	رفع البنك المركزي نسبة الاحتياطي القانوني للودائع المصرفية	
7	التحكم في سعر السلع وتحديد أثمانها النهائية	تحكم ومراقبة مباشرة

السؤال الثاني

10

أ) تُعرف النظم الاقتصادية بأنها مجموعة القواعد والمؤسسات والمنظمات التي يختارها المجتمع كأسلوب أو وسيلة لحل المشكلة الاقتصادية.

1- ما هي أبرز المشكلات الاقتصادية التي واجهت العالم؟ .....

2- عرف المشكلة الاقتصادية : .....

.....  
.....

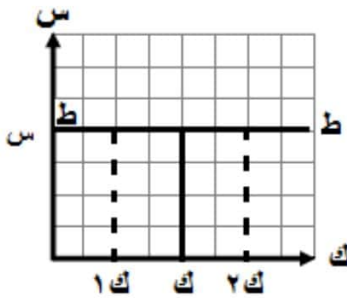
3- قارن بين النظم الاقتصادية من حيث العناصر التالية:

النظام الاقتصادي		عناصر المقارنة
النظام المختلط	النظام الاشتراكي	
تملك الدولة الصناعات المهمة والبقية ملكية مشتركة أو خاصة		ملكية عوامل الإنتاج
	تحدد سياسة الدولة أسعار السلع والخدمات	تحديد سعر السلع والخدمات
انخفاض حافز تحقيق الأرباح		حافز الأرباح

ب) عرف مرونة الطلب وأكتب نوع منحنى الطلب ودرجة المرونة أسفل الأشكال التالية:

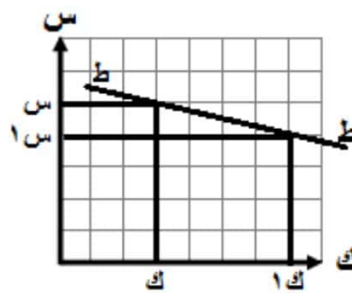
\* مرونة الطلب : .....

.....



\* نوع المنحنى : .....

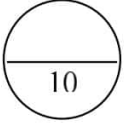
\* درجة المرونة: .....



\* نوع المنحنى : .....

\* درجة المرونة: .....

## السؤال الثالث:



أقرأ الحالة التالية جيداً، ثم أجب عن الأسئلة التي تليها:

"نظراً لتدكس عدد كبير من العمال في إحدى المؤسسات، أنهيت خدمة سليمان يوسف المتزوج حديثاً، وقد نصحه صديقه عندما كان يبحث عن عمل التسجيل في مشروع "نظام التأمين ضد التعطل"، وبعد تلقيه التدريب والتأهيل المناسب في "المشروع الوطني للتوظيف" إلتحق بوظيفة مناسبة وحصل على أول أجر شهري قدره 400 دينار بحريني، أنفق منه 250 د.ب في شراء عدد مكيفين تبريد والباقي سدد به القسط السنوي لخدمة تأمين سيارته".

1- عرف العاطل عن العمل : .....

.....  
.....

2- ما نوع البطالة التي تعرض لها سليمان يوسف : .....

3- أذكر شرطاً من الشروط الأساسية للبطالة التي توافرت في سليمان يوسف : .....

.....

4- ما هي المشاكل التي تتوقع قد واجهت سليمان يوسف عندما كان عاطلاً عن العمل:.....

.....

5- أكتب صيغة معادلة البطالة : .....

.....

6- كيف استعاد سليمان يوسف من المشاريع التي تقدمها مملكة البحرين للحد من البطالة؟

.....

.....

7- حدد مقدار كل من الأجر النقدي والأجر الحقيقي:

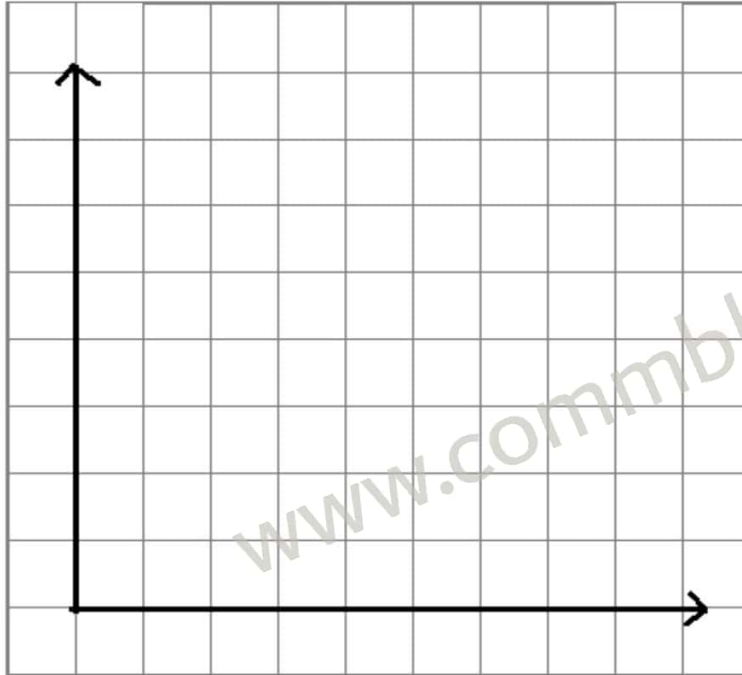
• الأجر النقدي = .....

• الأجر الحقيقي = .....

**السؤال الرابع:**

11

في ما يلي جدول يبين العلاقة بين الكمية المعروضة والسعر لسلعة ما خلال فترة زمنية محددة في السوق:



السعر بالدينار	الكمية المعروضة
5	100
10	200
15	300
20	400
25	500

1- ارسم منحنى العرض .

2- حدد نوع العلاقة بين السعر والكمية المعروضة: .....

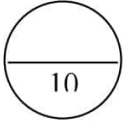
3- ماهي العوامل المؤثرة في العرض ؟ (يكتفى بثلاثة عناصر فقط).

- .....
- .....
- .....

4- احسب درجة مرونة العرض عند تغير السعر من 15 دينار إلى 20 دينار (المظلل بالجدول أعلاه) ، وحدد نوع المرونة.

• مرونة العرض = .....

• نوع المرونة: .....



السؤال الخامس:

أكمل الجدول ادناه ثم أجب عن الأسئلة التي تليه:

عدد الوحدات	المنفعة الحدية	المنفعة الكلية
1	15	.....
2	12	27
3	9	36
4	6	42
5	3	45
6	0	.....
7	3-	42
.....	.....	.....

1- عرف المنفعة الحدية: .....

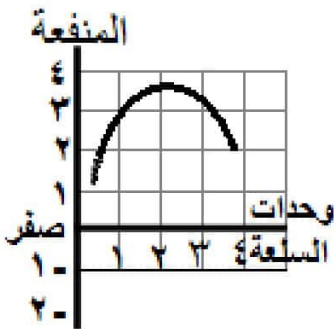
2- ماهي الوحدة التي تحقق التوازن للمستهلك إذا علمت بأن سعر الوحدة 6 دينار؟ .....

3- تُسمى الوحدة 6 بالوحدة ..... وإذا أستهلك الوحدة 7 تصبح منفعتها الحدية .....

4- بفرض تغير السعر وأصبحت المنفعة الحدية التي تُحقق التوازن هي الوحدة الثالثة.

فعد أي سعر للوحدة يتحقق هذا التوازن؟ .....

5- حدد نوع المنحى ونوع علاقة المنفعة بالوحدات المستهلكة في الشكل التالي:



• نوع المنحى: .....

• نوع علاقة المنفعة بالوحدات المستهلكة: .....

انتهت الأسئلة