

مملكة البحرين

وزارة التربية والتعليم

إدارة الامتحانات / قسم الامتحانات المركزية

امتحان نهاية الفصل الدراسي الأول للتعليم الثانوي للعام الدراسي 2017/2018م

المسار: توحيد المسارات

اسم المقرر: مبادئ الاقتصاد

الزمن : ساعة ونصف

رمز المقرر : قصد 211

(11 درجة)

السؤال الأول:

(أ)

1. أستكمل عناصر الإنتاج وعوائدها في الجدول الآتي:

	العائد	
	العائد	
	العائد	رأس المال
	العائد	

2. هل يمكن الاستغناء عن عنصر واحد من عناصر الإنتاج؟ لماذا؟

(ب) أكمل الآتي:

1. تنقسم السلع إلى:

- -----
- سلع حره. مثال: -----

2. هل يحصل الإنسان على السلع الحرة بمقابل؟ لماذا؟

3. مجموعة الخدمات: مثال: -----

4. السلع الاستهلاكية تنقسم إلى:

- ----- مثال: -----
- ----- مثال: -----

5. ينقسم رأس المال إلى:

- ----- مثال: -----
- ----- مثال: -----

(7 درجات)

السؤال الثاني:

اقرأ الحالتين الآتيتين بدقة، ثم أجب عن الأسئلة التي تليهما.

أ- يعمل محمد موظف لدى شركة الحديد والصلب، ويحصل على أجر يومي قدره 10 د.ب، أراد في ذلك اليوم شراء (3) كيلو من الرمان، حيث اعتاد على شراء الكيلو الواحد بدينار واحد، إلا أنه تفاجأ في ذلك اليوم بأن ارتفع سعر كيلو الرمان إلى دينارين، مما اضطره إلى شراء كيلو ونصف فقط بسبب ارتفاع السعر .

من خلال الحالة السابقة أجب عن الآتي:

1- كم يبلغ الأجر النقدي الذي يستلمه محمد في الشهر؟

2- عندما قرر محمد شراء كيلو ونصف بالسعر الجديد، ما مقدار المبلغ الذي سيدفعه؟

3- كم يبلغ دخل محمد الحقيقي في حالة أنه قرر الشراء بالعشرة الدنانير كاملة.

◆ الدخل الحقيقي بالسعر القديم:

◆ الدخل الحقيقي بالسعر الجديد:

أ- يعمل علاء في مزرعة والده، وتتوفر في المزرعة أشجار النخيل والتين والفراولة والكرز والمشمش وغيرها من الأشجار المثمرة، في نهاية الشهر يقوم علاء بنقل محصول كل من النخيل والتين إلى السوق لبيعه والحصول على ثمنه، وتقوم والدة علاء بعمل مربى الكرز والفراولة داخل المزرعة وذلك للاستفادة من المحصول بسبب وفرته في فصل الصيف، وتوجد أيضا في المزرعة أشجار غير مثمرة يستفاد من أخشابها لإنتاج بعض السلع الخشبية مثل الطاولة والكراسي.

وردت في الفقرة السابقة ثلاثة منافع للإنتاج، اذكرها مع ذكر المثال الخاص بالمنفعة الذي وردت في الفقرة.

◆ المنفعة:----- المثال:-----

◆ المنفعة:----- المثال:-----

◆ المنفعة:----- المثال:-----

(9 درجات)

السؤال الثالث:

أ- اكتب المصطلح أو التعريف المناسب إلى الآتي:

الرقم	المصطلح	التعريف
1		هي مجموع المنفعة الإجمالي المتحصل من استهلاك الفرد لوحدة سلعة معينة خلال فترة زمنية معينة.
2	التضخم	
3		فوتان تحددان سعر توازن السوق.
4	الحاجة	
5		أزمة اقتصادية بدأت مع انهيار سوق الأسهم الأمريكية في 29 أكتوبر 1929م.
6	الطلب	
7		مقدار ما يمكن زيادته في حجم الأراضي داخل الدولة، وذلك باستصلاحها وإعدادها للاستعمال في جميع المجالات.
8	النظام الاقتصادي الرأسمالي	

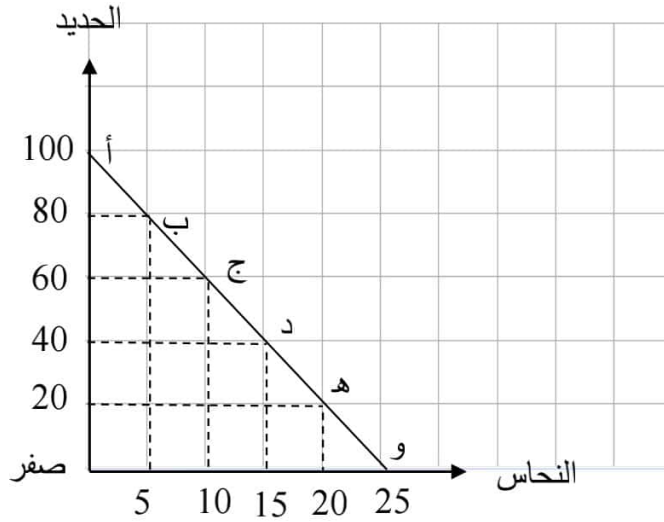
ب- صحح العبارات الآتية: (لن يقبل الأثبات أو النفي)

الرقم	العبارات	التصحيح
1	ارتفع سعر سلعة معينة من 5 د.ب إلى 10 د.ب، وأدى إلى انخفاض الكمية المطلوبة من 100 طن إلى 80 طن، فإن مرونة الطلب تساوي 1.2	
2	هدف النظام الاقتصادي الاشتراكي هو تحقيق الربح.	
3	تركزت أفكار المدرسة الكلاسيكية في وضع التصورات والحلول لمشكلات المجتمع الاقتصادية، كمشكلة التنمية الاقتصادية ومشكلة البطالة.	
4	يمكن معالجة التضخم من خلال السياسة المالية والتي تنفذ عن طريق البنوك المركزية، حيث تعتمد على الأدوات الاقتصادية الكمية والنوعية.	
5	بلغ مجموع القوى العاملة في مجتمع ما 100000 عامل، وعدد عاطلين عن العمل 5000 عاطل، فإن معدل البطالة يساوي 3%.	
6	تتغير مرونة الطلب بالنسبة للأشخاص القادرين على الشراء في المجتمع.	

(6 درجات)

السؤال الرابع:


أ- أنظر إلى الشكل الآتي لمجتمع ما، ثم أجب عن الأسئلة التي تليه:



1- ماذا يسمى الشكل الذي أمامك؟

2- هل بالإمكان أن ينتقل المنحى إلى جهة اليمين؟ اذكر الأسباب؟

ب- ارسم منحنى طلب عديم المرونة، ثم اذكر مثال على نوع السلعة.



----- نوع السلعة:

السؤال الخامس:

(11 درجة)

أ- أكمل بيانات الجدول الآتي، ثم أجب عن الأسئلة التي تليه، علمًا بأن الوحدة التي تحقق التوازن هي **الوحدة الخامسة**.

10	9	8	7	6	5	4	3	2	1	أرقام وحدات السلعة
8	8	8	8	8	8	8	8	8	8	سعر السلعة (بالدينار)
2-										المنفعة الحدية (بالدينار)
										المنفعة الكلية (بالدينار)

1- ما هو سبب تناقص المنفعة الحدية؟

2- بفرض تغير سعر الوحدة المستهلكة إلى 4 دنانير، ماهي الوحدة التي تحقق التوازن؟

3- العلاقة بين المنفعة الكلية والوحدات المستهلكة من السلعة علاقة -----

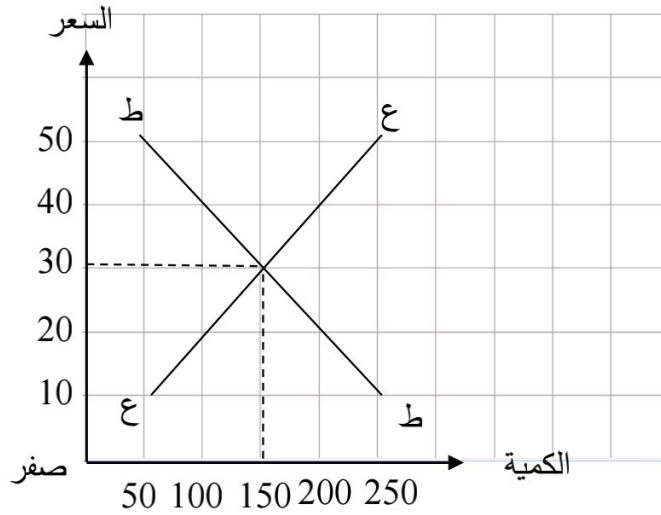
ب- حدد نوع البطالة في الأمثلة الآتية:

الرقم	الأمثلة	نوع البطالة
1	يعمل أيمن في قسم الطباعة، إلا أن عدد العمال في القسم يفوق الحاجة المطلوبة، لذلك هو يعمل في اليوم ساعة واحدة فقط.	
2	تم تسريح عدد كبير من العمال في مصنع النسيج نتيجة لركود قطاع الأعمال وعدم كفاية الطلب الكلي على استيعاب الإنتاج.	
3	طلب ياسر آلات حرث جديدة وعمال جدد بسبب بدء موسم زراعة المشمش، وبعد انتهاء الحصاد استغنى عن العمال.	
4	منى عاطلة عن العمل ويرجع ذلك إلى عدم معرفتها بالوظائف الشاغرة لدى أصحاب الأعمال والشركات.	
5	تم تأجيل العمل في بناء أحد الجسور بسبب التقلبات المناخية - كالأعاصير والفيضانات - الغير مستقرة.	

(6 درجات)

السؤال السادس:

أ- أنظر إلى الشكل الآتي، ثم أجب عن الأسئلة التي تليه.



1- حدد على الرسم نقطة التوازن ومنطقتي الفائض والعجز.

2- استخرج من الرسم سعر التوازن وكمية التوازن.

3- ماهي العوامل المؤثرة في مرونة العرض؟ (يكتفي بأربع نقاط فقط)

- ◆
- ◆
- ◆
- ◆

ب- ما هي خطوات حل المشكلة الاقتصادية؟

- ◆
- ◆
- ◆

انتهت الأسئلة